

予習確認プリント

学年：\_\_\_\_\_ 学籍番号：\_\_\_\_\_ 名前：\_\_\_\_\_

・全天日射，直達日射，天空日射とは？

・日射の受熱量は，方位によってどのような特性があるか？

・日射の調節にはどのような方法があるか？

・日射の遮蔽の際にはどのような点に気をつければよいか？

※予習の段階に比べて，授業を聞き終わった段階では，何がわかりましたか？

5 太陽と日射

5 日射 (教科書 pp. 76~82)

太陽が放出するエネルギー

→分光分布は、下図を参照。5600K の黒体が発しているスペクトルに近い。

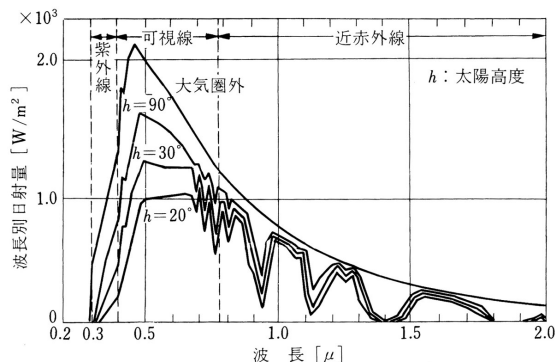


図 太陽光線の分光分布 (出典：参考文献 [1], p. 94)

直達日射量と天空日射量の計算

晴天時の法線面直達日射量と水平面天空日射量は、下の式で計算できる。

→下記で求める値はあくまで計算値であり、実際の値 (測定値) とは異なる。

- ・法線面直達日射量 ( $J_D$ , [ $W/m^2$ ])

(下図も参照のこと。ただし、 $J_O$ と $J_D$ は、下図中では $I_O$ と $I_n$ となっている。)

$$J_D = J_O \cdot P \frac{1}{\sin h}$$

〈1〉 (ブーゲ (Bouguer) の式)

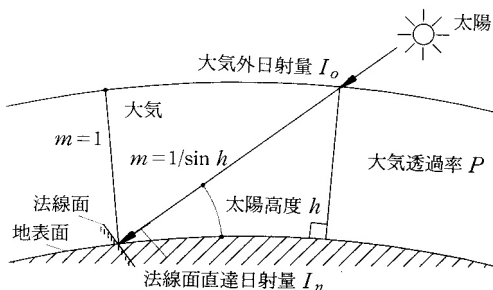


図 直達日射量 (出典：参考文献 [2], p. 99)

- ・水平面天空日射量 ( $J_s$ , [ $W/m^2$ ])

$$J_s = \frac{1}{2} \cdot J_o \cdot \sinh \cdot \frac{1 - P^{\sinh}}{1 - 1.4 \cdot \ln P} \quad \langle 2 \rangle \text{ (ベルラーゲ (Berlage) の式)}$$

ここで,

$h$ : 太陽高度 ( $[\circ]$  もしくは  $[\text{rad}]$ )

→ 1 度 1 分 1 秒 ( $1^\circ 1' 1''$ ) を単位として角度を表す場合を度数法といい,  
 $\pi$  radian (ラジアン,  $=180^\circ$ ) のように「ラジアン」を単位として表す場合を弧度法と言う。

$\ln$ :  $\log_e$  ( $e (= 2.71828\dots)$  を底とする自然対数) →  $\log_{10}$  は底を 10 とする常用対数

$$\frac{1}{\sinh} = \text{cosech}$$

$P$ : 大気透過率 (教科書 p. 76 の③を参照のこと。)

大気の透明度の指標 ( $0 < P < 1$  の値を取る)。

季節や場所によっても値が異なる。

- ・(水平面) 全天日射量 ( $J_H$ , [ $W/m^2$ ])

$$J_H = J_D \cdot \sinh + J_s \quad \langle 3 \rangle$$

### 日射の遮へい

- ・窓などの透明部分は、日射熱取得が大きい。

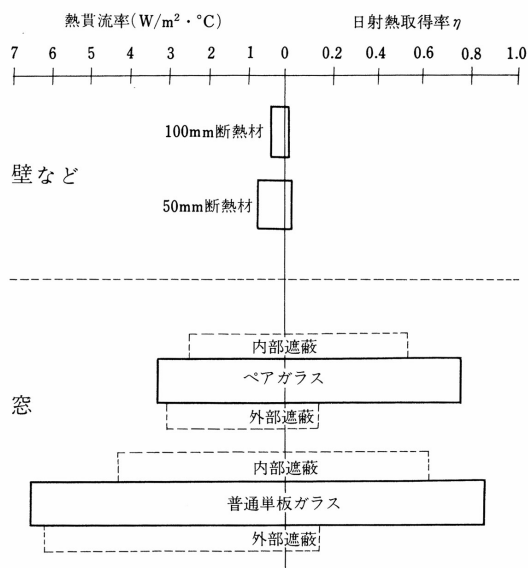


図 窓と壁の熱性能比較 (出典: 参考文献 [1], p. 92)

・窓面における日射遮蔽手法

→教科書 p. 81 の「③日除けの種類」の他に下記の図も参照。

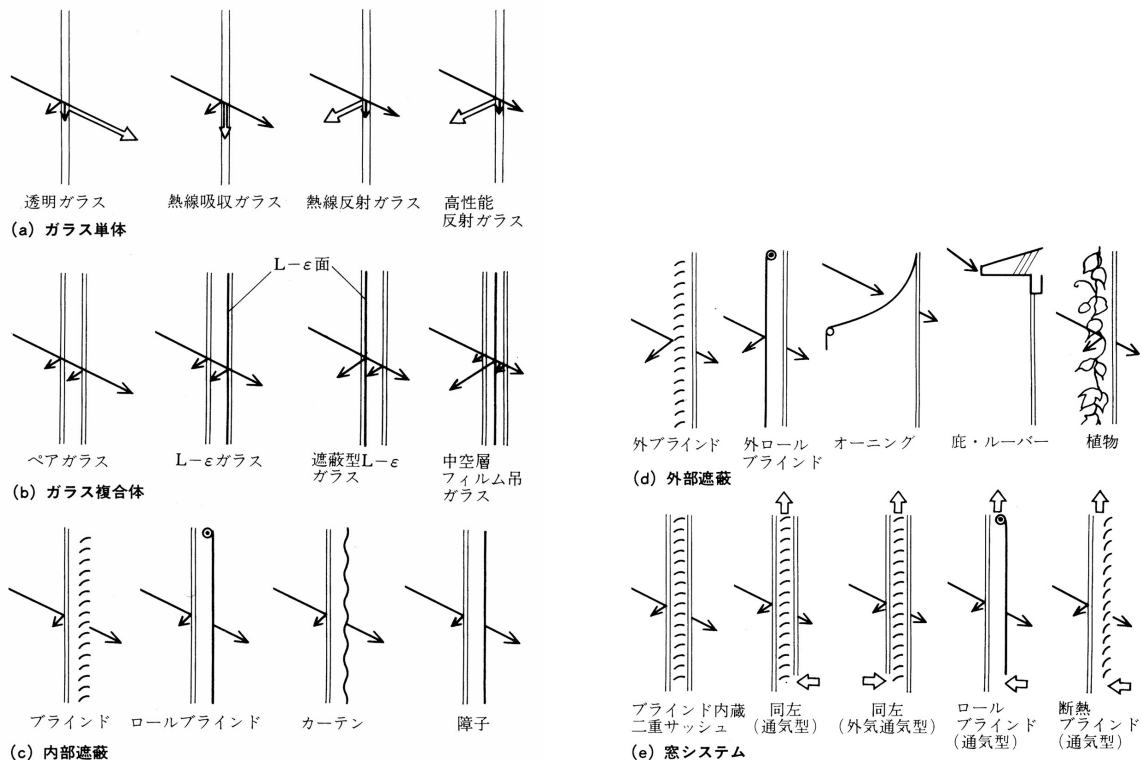


図 窓面における日射遮蔽手法 (出典：参考文献 [1], pp. 92~93)

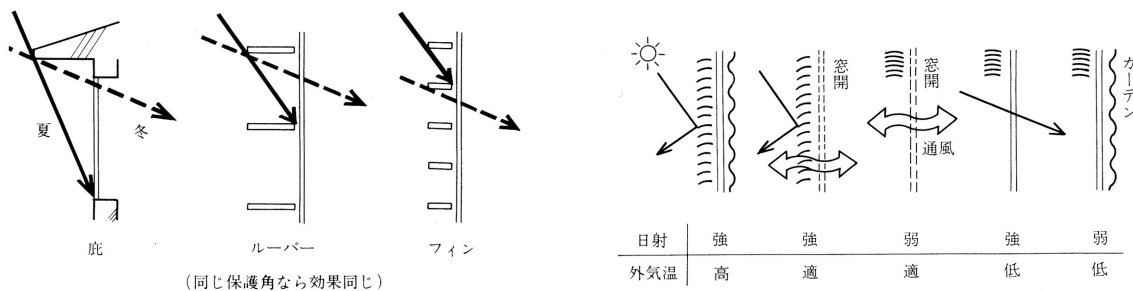


図 南面における日射の利用と遮蔽 (出典：参考文献 [1], p. 93)

図 種々の状況への対応 (出典：参考文献 [1], p. 93)

### 地球放射

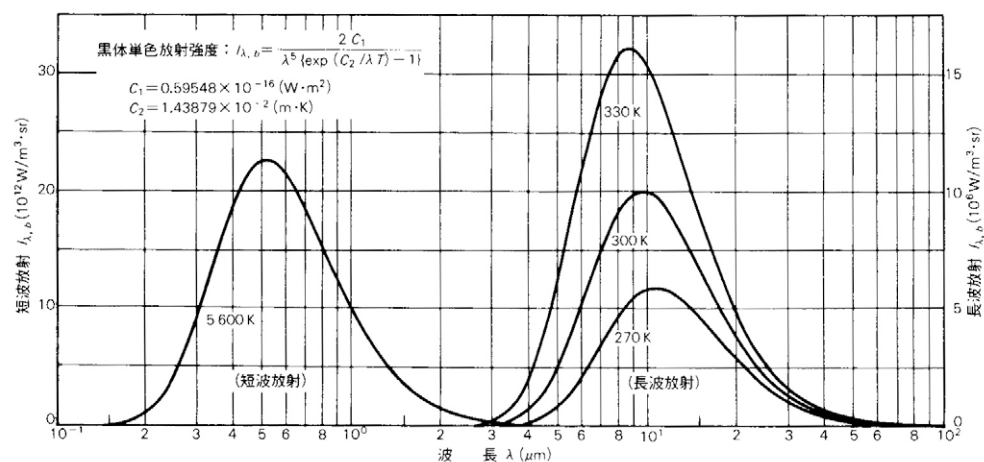
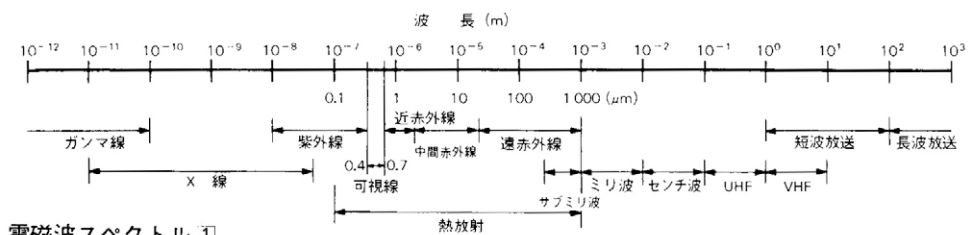
地球は大気に向かって（長波長）放射を行っている。

→約 288K の黒体がエネルギーを発していると考えればよい（下図を参照）。

→教科書 p.138 「地球温暖化」も参照。

→→日射（短波長放射）よりも弱いエネルギーを運ぶ。

- ・曇天時には、雲量が多いほど、また雲が低層であるほど、夜間放射量は少ない。



(出典：参考文献 [3], p.100)

【参考文献】(順に、タイトル、編著者名、出版社、発行年月、価格、ISBN。[] 内は熊本県立大学附属図書館所蔵情報)。

[1] 『環境工学教科書 第二版』(環境工学教科書研究会編著、彰国社、2000年8月、¥3,500 + 税、ISBN: 4-395-00516-0) [開架 2, 525.1 || Ka 86, 0000310578]

[2] 『初めての建築環境』(〈建築のテキスト〉編集委員会編、学芸出版社、1996年11月、¥2,800 + 税、ISBN: 4-7615-2162-7) [開架 2, 525.1 || Ke 41, 0000216584, 0000216585, 0000216586, 0000248500]

[3] 『建築設計資料集成 1 環境』(日本建築学会編、丸善、1978年6月、¥7,500 + 税、ISBN: 4-3352-2313-7924) [開架 2, 525.1 || KE 41 || 1, 0000157165, 0000166428] [書庫, 525.08 || KE3 || 1A, 0000086850]

学年：\_\_\_\_\_ 学籍番号：\_\_\_\_\_ 名前：\_\_\_\_\_

**【演習問題】**

熊本（北緯  $32^{\circ} 49'$ ）における，春分の日（3月21日），夏至の日（6月21日）ならびに冬至の日（12月22日）の午前10時（真太陽時）の太陽の高度は，それぞれ  $46.2^{\circ}$ ， $62.1^{\circ}$ ， $26.8^{\circ}$  である。それぞれの時の法線面直達日射量，水平面天空日射量ならびに全天日射量を求めよ。なお，太陽定数は， $J_0=1370$  [W/m<sup>2</sup>] とし，春分の日，夏至の日ならびに冬至の日の大気透過率は，それぞれ 0.65，0.60 ならびに 0.75 とする。